

UNIVERSIDADE FEDERAL DE ALAGOAS
POLÍCIA MILITAR DE ALAGOAS
CORPO DE BOMBEIROS MILITAR DE ALAGOAS
Comissão Permanente do Vestibular (COPEVE)

PSS - 2006/2007

ESTUDOS SOCIAIS

INSTRUÇÕES

- Ao receber este caderno de prova verifique se contém um total de 10 questões abertas.
- Caso contrário, solicite ao fiscal da sala um outro caderno completo.
- Não serão aceitas reclamações posteriores.

ATENÇÃO

- Não use lápis. Use apenas caneta esferográfica de tinta azul ou preta.
- Não coloque seu número, nome ou assinatura em qualquer local da Prova de Estudos Sociais. Isto o identificará e, conseqüentemente, anulará sua Prova.
- Não serão permitidas rasuras.
- Não será permitida qualquer espécie de consulta.
- Você terá **2 horas** para resolver a todas as questões e transferi-las para as **FOLHAS DE RESPOSTAS**.
- A correção da prova será efetuada levando-se em conta **EXCLUSIVAMENTE** o conteúdo das **FOLHAS DE RESPOSTAS**.
- Ao término da prova, devolva à mesa de fiscalização o Caderno de Questões juntamente com as **FOLHAS DE RESPOSTAS** e assine a lista de presença.

Nº DE INSCRIÇÃO _____

NOME DO CANDIDATO _____

QUESTÕES ABERTAS

1. Considere a foto.

Nos Estados Unidos da América, na década de 1930, pão e sopa eram distribuídos, pelo governo



(In: Luis Koshiba e Denise Frayse Pereira. **História Geral e do Brasil**. São Paulo: Atual, 2004. p. 316)

A foto expressa uma das ações do governo dos EUA para minimizar problemas sociais decorrentes da Crise de 1929.

- a. Cite três características socioeconômicas diretamente relacionadas a essa Crise.
- b. Qual a política econômica adotada pelos Estados Unidos para combater a Crise?

RASCUNHO

2. Considere o texto.

A reorganização das estruturas produtivas e o aumento dos fluxos comerciais e financeiros configuram uma situação de crescente interdependência mundial, no presente contexto de aceleração do desenvolvimento tecnológico.

(Adaptado de Bolívar Lamounier. In: Flávio de Campos e Renan Garcia Miranda. **Oficina de História**. São Paulo: Moderna, 2000. p. 360)

O autor trata de um fenômeno econômico que caracteriza o mundo nas três últimas décadas.

- a. Cite o nome desse fenômeno.
- b. Explique dois fatores relacionados às origens do que o autor denomina por "crescente interdependência mundial".

RASCUNHO

3. Considere o trecho do poema de cordel.

A volta de Getúlio	Pode um padre ser batista
Pode o pato não nadar	Protestante não cantar
Pode o leão ser mofino	Católico não ir à missa
Pode o gato não miar	Freira deixar de rezar
A galinha criar dente	O ateu ter salvação
Gente virar serpente	Cobra tocar violão
Mas Getúlio vai voltar	Se Getúlio não voltar


(Rodolfo C. Cavalcanti. In: Francisco Fernando Monteoliva Doratioto e José Dantas Filho. *De Getúlio a Getúlio*. São Paulo: Atual, 1991. p. 55)

A figura de Getúlio Vargas foi bastante difundida no universo popular, sendo tema de literatura de cordel.

- Identifique o período em que Vargas governou, após a sua "volta" ao poder.
- Indique a forma como Getúlio voltou ao poder nesse período.
- Cite um exemplo da política de estatização implementada por Getúlio, que teve grande destaque nesse período.

RASCUNHO

4. Considere a charge de 1979.

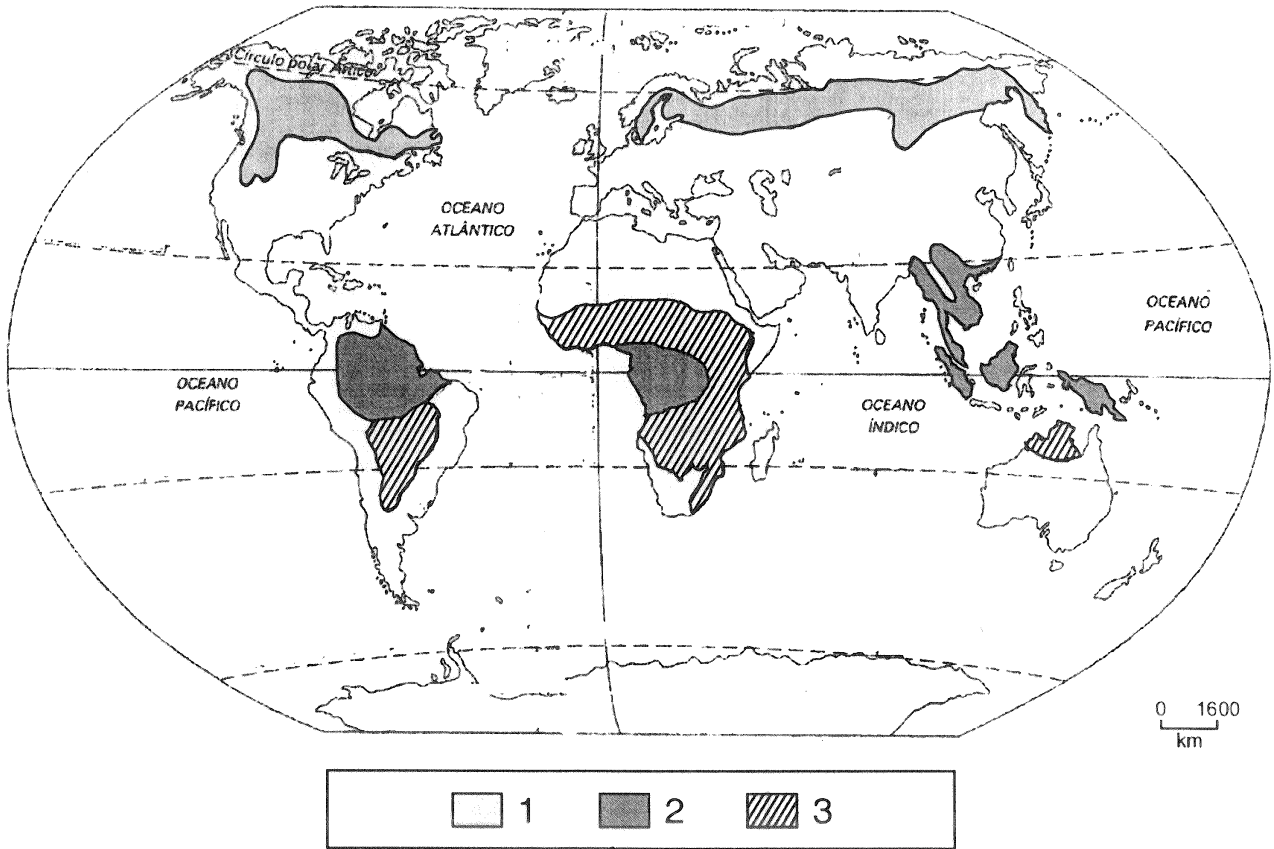


(Hermnio Macedo Castelo Branco. In: *Piracicaba 30 anos de humor*. São Paulo: Imprensa Oficial do Estado/Instituto do Memorial de Artes Gráficas do Brasil, 2003. p. 77)

- A charge expressa, com ironia, o fim de um período da história brasileira. Cite dois fatos que podem ser relacionados à satisfação demonstrada pelo chargista.
- Durante o período mencionado na charge, o regime político montou um aparato de propaganda e divulgou *slogans* ufanistas. Cite dois desses *slogans*.

RASCUNHO

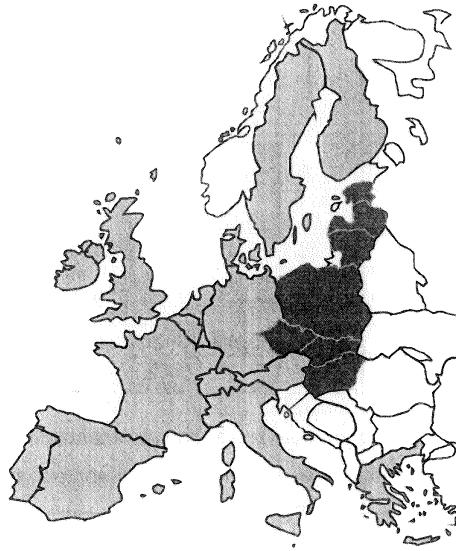
5. No mapa estão indicadas pelos números 1, 2 e 3, três grandes formações vegetais do Globo.



- a. Dê o nome dessas formações vegetais e os respectivos tipos de clima onde aparecem.
- b. Apresente uma característica de cada formação vegetal identificada.

RASCUNHO

6. Observe o mapa.



O mapa apresenta a atual formação da União Européia com destaque para os 10 novos países-membros que, formalmente, passaram a integrar o bloco, a partir de 1º de maio de 2004.

- a. Cite o nome de três desses países.
- b. Apresente duas características desse grupo de países.

RASCUNHO

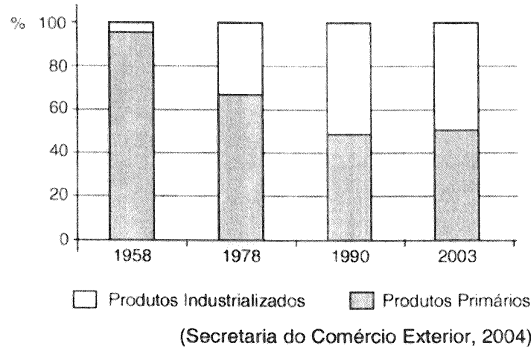
7. No momento atual, o espaço mundial está cada vez mais integrado por meios de transporte e de comunicação.

- a. Em que parte do mundo essa integração é mais visível?
- b. Como o processo de globalização se beneficia dessa integração mundial?

RASCUNHO

8. Analise o gráfico abaixo.

Brasil: composição das exportações (em %)



- a. Cite dois produtos primários exportados em 1958 e dois produtos industrializados exportados em 2003.
- b. Descreva o comportamento das exportações brasileiras no período apresentado no gráfico.

RASCUNHO

9. Considere os textos.

Tudo está sujeito à lei de causa e efeito. Há, pois, uma série de causas eficientes, causas e efeitos, ao mesmo tempo: ora, é possível remontar indefinidamente na série das causas; logo há uma causa primeira, não causada que é Deus...

Todos os entes tendem para uma ordem, não por acaso, mas por uma inteligência que os dirige; há, pois, um ente inteligente que ordena a natureza e a impele para o seu fim. Esse ente inteligente é Deus.

Os textos apresentam alguns fundamentos de uma doutrina que foi idealizada durante o período medieval.

- a. Identifique o autor ou o nome dessa doutrina.
- b. Qual a relação entre aristotelismo e cristianismo para o autor dos textos?
- c. Como a Igreja Católica reagiu a tomar conhecimento das idéias dessa doutrina?

RASCUNHO

10. Considere o texto.

A década de 80 produziu uma nova reviravolta no jogo político europeu e estadunidense. O cerne dessa reviravolta esteve na decadência das políticas orientadas para o Welfare State e na ascensão das políticas chamadas neoliberais.

(In: Demétrio Magnoli. O mundo contemporâneo. São Paulo: Moderna, 2003. p. 154)

- a. Qual o papel do Estado na chamada política do Welfare State?
- b. Explique a concepção dos neoliberais sobre a relação entre Estado e a economia.

RASCUNHO